

## 中期選抜学力検査

# 検査2 社会

### 解答上の注意

- 「始め」の指示があるまで、問題を見てはいけません。
- 問題は、この冊子の中の1～4ページにあります。
- 答案用紙には、**受付番号**を記入しなさい。氏名を書いてはいけません。
- 答案用紙の**答の欄**に答えを記入しなさい。採点欄に記入してはいけません。
- 答えを記入するときは、それぞれの問題に示してある【答の番号】と、答案用紙の【答の番号】とが一致するように注意しなさい。
- 答えを記号で選ぶときは、答案用紙の**答の欄**の当てはまる記号を○で囲みなさい。答えを訂正するときは、もとの○をきれいに消すか、それに×をつけなさい。
- 答えを記述するときは、丁寧に書きなさい。
- 字数制限がある場合は、句読点や符号なども1字に数えなさい。
- 答えの書き方について、次の**解答例**を見て間違いのないようにしなさい。

### 解答例

- 火曜日の翌日は何曜日か、漢字1字で書け。  
……………答の番号【1】
- 次のA～Cの数を値の小さいものから順に並べかえ、記号で書け。 ……答の番号【2】  
A 7      B 5      C 3
- 次の問い(1)・(2)に答えよ。  
(1) 「京」の総画数として最も適当なものを、次の(ア)～(ウ)から1つ選べ。 ……答の番号【3】  
(ア) 7画    (イ) 8画    (ウ) 9画  
(2) 奇数を、次の(ア)～(オ)からすべて選べ。  
……………答の番号【4】  
(ア) 1      (イ) 2      (ウ) 3  
(エ) 4      (オ) 5

問題番号	答の番号	答の欄	採点欄
1	【1】	水曜日	[1]
2	【2】	(C)→(B)→(A)	[2]
3	(1) 【3】	ア イ ウ	[3]
	(2) 【4】	ア イ ウ エ オ	[4]

検査	受付番号	1	2	3	4	5	6	得点
2		1	2	3	4	5	6	

1 涼さんは、夏休みに家族と東南アジアへ旅行に出かけ、さまざまなことを調べた。右の資料Ⅰは、涼さんが訪れた都市を記した東南アジア周辺の略地図の一部である。これを見て、次の問い(1)～(5)に答えよ。(10点)

資料Ⅰ

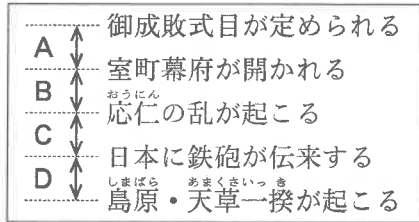


(1) 資料Ⅰ中の点線(-----)は、緯度0度の緯線を示している。この緯線のことを何というか、ひらがな4字で書け。また、次の(ア)～(エ)のうちから、この緯線が通る国を1つ選べ。……………答の番号【1】

(ア) イタリア (イ) インド (ウ) エジプト (エ) ブラジル

(2) 資料Ⅰ中のホイアンは、ベトナムの都市である。涼さんは、かつて日本町があったホイアンを訪れ、朱印船貿易を通して当時の東南アジア各地に、日本町が形成されたことを知った。右の資料Ⅱは、13世紀から17世紀の日本のおもなできごとを涼

資料Ⅱ



さんが年代順に並べて作成したものである。日本と東南アジアの国々との間で、朱印船貿易が開始されたのはどの時期か、資料Ⅱ中のA～Dから1つ選べ。また、涼さんは、朱印船貿易における航海では、夏と冬で風向きが変わる風が利用されていたことを知った。この風を何というか、漢字3字で書け。……………答の番号【2】

(3) 資料Ⅰ中のバンコクは、タイの首都である。涼さんは、バンコクで仏教寺院を訪れて仏教に興味を持ち、日本の仏教文化について調べた。日本で栄えた仏教文化の一つである飛鳥文化を代表する建造物として最も適当なものを、次のi群(ア)～(エ)から1つ選べ。また、飛鳥文化が栄えた時期の日本について述べた文として最も適当なものを、下のii群(カ)～(ケ)から1つ選べ。……………答の番号【3】

i群 (ア) 延暦寺 (イ) 法隆寺 (ウ) 中尊寺金色堂 (エ) 平等院鳳凰堂

ii群 (カ) 農村で、惣とよばれる自治組織がつけられた。

(キ) 人々に開墾をすすめるために、朝廷が墾田永年私財法をだした。

(ク) 漢字を変形させて簡単にした仮名文字がつけられ、枕草子などの文学作品が生まれた。

(ケ) 家柄にとらわれず、個人の才能によって役人を採用するために、冠位十二階の制度が定められた。

(4) 資料Ⅰ中のクアラルンプールは、マレーシアの首都である。涼さんは、マレーシアがイギリスから独立した国であることを知った。右の資料Ⅲおよび下の資料Ⅳは、イギリスから独立した国のうち、マレーシア、オーストラリア、サウジアラビア、ガーナの4か国について、さまざまな視

資料Ⅲ

	人口 (千人)	人口密度 (人/km <sup>2</sup> )
A	28,033	117.5
B	24,309	3.2
C	30,752	93.1
D	32,158	14.6

「データブック オブ・ザ・ワールド 2017」より作成

資料Ⅲからは、4か国それぞれの国の面積を求めて比較することもでき、国の面積が大きな順に、オーストラリア、サウジアラビア、マレーシア、ガーナとなることが読み取れる。

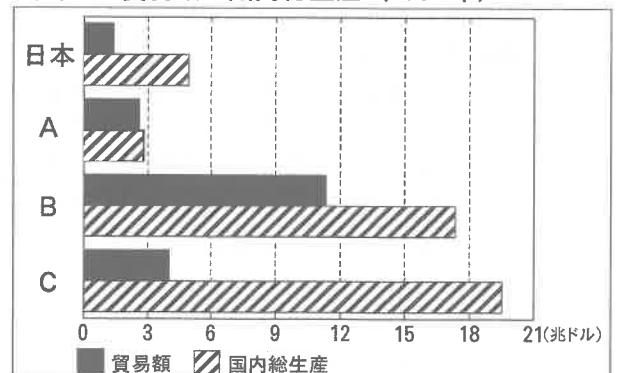
点から比較するために涼さんが作成したものである。資料Ⅲは、2016年における4か国の人口と人口密度を示したものであり、A～Dはそれぞれ、4か国のいずれかである。このうち、マレーシアにあたるものはどれか、涼さんが資料Ⅲについて書いた右の文を参考にして、A～Dから1つ選べ。また、資料Ⅳは、2016年における4か国の輸出額の上位5品目と、それぞれの輸出総額に対する割合を示したものであり、P～Sはそれぞれ、4か国のいずれかである。このうち、マレーシアにあたるものはどれか、P～Sから1つ選べ。……………答の番号【4】

資料Ⅳ	1位		2位		3位		4位		5位	
P	機械類	41.4%	石油製品	6.6%	パーム油	4.8%	天然ガス	4.1%	精密機械	3.6%
Q	原油(石油)	65.6%	石油製品	11.4%	プラスチック	6.8%	有機化合物	3.7%	機械類	1.3%
R	金	41.6%	カカオ豆	17.7%	原油(石油)	10.1%	野菜・果実	9.6%	木材	3.6%
S	鉄鉱石	20.9%	石炭	15.6%	金	7.4%	天然ガス	7.0%	肉類	4.4%

「世界国勢図会 2018/19」より作成

(5) 涼さんは、資料Ⅰ中で記した都市があるすべての国が、1967年に創設された東南アジア諸国連合に加盟していることを知った。東南アジア諸国連合の略称をアルファベット大文字5字で書け。また、右の資料Ⅴは、涼さんが2017年における東南アジア諸国連合、ヨーロッパ連合(EU)、アメリカ、日本の貿易額と国内総生産についてそれぞれ調べ、作成したものであり、A～Cはそれぞれ、東南アジア諸国連合、ヨーロッパ連合、アメリカのいずれかである。このうち、東南アジア諸国連合にあたるものを、A～Cから1つ選べ。ただし、東南アジア諸国連合、ヨーロッパ連合の貿易額および国内総生産は、それぞれの加盟国の合計を示したものである。……………答の番号【5】

資料Ⅴ 貿易額と国内総生産(2017年)



「世界国勢図会 2019/20」より作成

2 桜さんは、自分が住んでいる愛知県についてさまざまなことを調べた。右の資料Ⅰは、資料Ⅰ

愛知県の略地図である。これを見て、次の問い(1)～(5)に答えよ。(10点)

(1) 桜さんは、資料Ⅰ中の小牧山に16世紀、織田信長が小牧山城を築いたことを知った。織田信長が行ったこととして最も適当なものを、次のi群(ア)～(エ)から1つ選べ。また、16世紀に世界で起こったできごとについて述べた文として最も適当なものを、下のii群(カ)～(ケ)から1つ選べ。……………答の番号【6】



- i群 (ア) 参勤交代の制度を整えた。 (イ) 九州の島津氏を降伏させた。  
 (ウ) キリスト教の信仰を禁止した。 (エ) 足利義昭を京都から追放した。  
 ii群 (カ) イギリスで名誉革命が起こった。 (キ) アメリカで独立宣言が発表された。  
 (ク) ルターが宗教改革を始めた。 (ケ) 李成桂が高麗をたおして朝鮮国を建てた。

(2) 桜さんは、資料Ⅰ中の津島市で「人権が尊重されるまちづくり条例」が2018年から施行されたことを知り、基本的人権について調べた。次の(ア)～(エ)は日本国憲法で保障されている基本的人権の内容の一部を示している。このうち自由権、社会権の内容として最も適当なものを、(ア)～(エ)からそれぞれ1つずつ選べ。

……………答の番号【7】

- (ア) 国に損害賠償を請求する権利 (イ) 能力に応じて、ひとしく教育を受ける権利  
 (ウ) 自分の財産を所有する権利 (エ) 選挙で代表者を選んだり、自ら立候補したりする権利

(3) 桜さんは、資料Ⅰ中の名古屋市にある徳川美術館に、平安時代に作成された「源氏物語絵巻」が所蔵されていることを知った。次のA～Dは平安時代に日本で起こったできごとである。A～Dを古いものから順に並べかえ、記号で書け。……………答の番号【8】

- A 白河上皇が摂政や関白の力をおさえて政治を行った。 B 空海が高野山に金剛峯寺を建てた。  
 C 藤原純友が武士団を率いて反乱を起こした。 D 源義朝が平氏の軍勢に敗れた。

(4) 右の資料Ⅱ・Ⅲは資料Ⅰ中の渥美半島内にある2つの異なる地域を示した2万5000分の1地形図の一部である。資料Ⅱの地形図から読み取れることとして最も適当なものを、次のi群(ア)～(ウ)から1つ選べ。また、資料Ⅲ中のP地点を基準として、Q～S地点との標高差を比較したとき、地点間の標高差が最も小さいものとして適当なものを、下のii群(カ)～(ク)から1つ選べ。……………答の番号【9】



資料Ⅱ・Ⅲは国土地理院調製2万5000分の1地形図「三川」「野田」(いずれも平成31年調製)の一部より作成

……………答の番号【9】

- i群 (ア) ○で囲まれたAの地域は、標高が50m以上であり、田として利用されている土地を含む。  
 (イ) ○で囲まれたBの地域は、標高が50m以上であり、果樹園として利用されている土地を含む。  
 (ウ) ○で囲まれたCの地域は、標高が50m以上であり、茶畑として利用されている土地を含む。

- ii群 (カ) P地点とQ地点 (キ) P地点とR地点 (ク) P地点とS地点

(5) 右の資料Ⅳは、2016年における中部地方の各県の農業産出額とその品目別の内訳をまとめたものである。桜さんは、中部地方の農業の特色について調べる中で、中部地方には特定の農産物の産出額の割合が高い県がある一方で、愛知県のように多様な農産物の生産が幅広く行われている県もあることを知った。桜さんは、農業産出額に占める最上位品目の割合が50%未満である県は、多様な農産物の生産が幅広く行われているのではないかと考え、資料Ⅳをもとにして中部地方の略地図である資料Ⅴ中に、農業産出額に占める最上位品目の割合が50%未満であった愛知県を黒く塗って示した。資料Ⅳ中の愛知県を除く残りの県のうちから、愛知県と同様に、農業産出額に占める最上位品目の割合が50%未満である県をすべて選び、答案用紙の略地図中で、その県にあたる部分をすべて黒く塗って示せ。

資料Ⅳ 2016年における中部地方の各県の農業産出額とその品目別の内訳(単位:億円)

	農業産出額	米	野菜	果実	畜産	その他
愛知県	3,154	276	1,127	207	875	669
新潟県	2,583	1,484	386	80	499	134
長野県	2,465	454	897	557	305	252
静岡県	2,266	196	700	331	490	549
岐阜県	1,164	216	361	56	440	91
山梨県	899	56	141	541	84	77
富山県	666	448	61	22	98	37
石川県	548	283	108	30	95	32
福井県	470	288	89	9	52	32








「データでみる県勢 2019年版」より作成

……………答の番号【10】

3 太郎さんは、交通と運輸の歴史について調べ、発表することにした。次の資料Ⅰは、太郎さんが発表のために作成した展示用の写真と解説文の一部である。これを見て、下の問い(1)～(5)に答えよ。(10点)


資料Ⅰ

				
中世の日本では、馬 <small>ば</small> 借 <small>しやく</small> と呼ばれる、①馬を用いた運送業者が活動した。	江戸時代、大量の物資を運ぶ菱垣廻船が、②大阪と江戸を往復した。	交通や通信の整備が進められ、③明治時代になると、新橋・横浜間に鉄道が開通した。	20世紀前半、日本では④自動車の国産化などが進められ、重化学工業が発展した。	1978年に開港した成田国際空港は、航空輸送の拠点となる⑤空港として発展してきた。

(1) 太郎さんは、下線部①馬が、中世の日本で戦いにも用いられてきたことを知った。右の資料Ⅱは、馬が用いられた13世紀の戦いを描いたものである。また、右の文章は、その戦いに関して太郎さんが書いたものである。文中の **A** に入る、当時の中国全土を支配していた国の呼び名を漢字1字で書け。また、**B** に入る表現として最も適当なものを、次の(ア)～(エ)から1つ選べ。…答の番号【11】

(ア) 生活が苦しくなった御家人を救済するために、幕府は永仁の徳政令を出した  
 (イ) 外国船の侵入を防ぐために、幕府は異国船打払令を出した  
 (ウ) 幕府をたおすために、後鳥羽上皇が京都で反乱を起こした  
 (エ) 幕府の力がおとろえたために、戦国大名が各地を支配するようになった

資料Ⅱ



**A** の皇帝フビライ・ハンの命令で始まった二度の **A** 軍の襲来を、幕府はしりぞけた。この戦いの後、13世紀末になると、**B**。

(2) 太郎さんは、江戸時代の下線部②大阪が、「三都」と呼ばれる都市の一つであったことを知った。江戸時代の大阪について述べた文として適当なものを、次の(ア)～(カ)からすべて選べ。……………答の番号【12】

- (ア) 出島が築かれ、オランダ人との交易が行われた。 (イ) 幕府が直接支配する幕領(幕府領)となった。  
 (ウ) 商業都市として発展し、「天下の台所」と呼ばれた。 (エ) 化政文化の中心地として栄えた。  
 (オ) 港の一つが、日米修好通商条約によって開港した。 (カ) 豊臣氏がほろぼされた戦いが起こった。

(3) 太郎さんは、下線部③明治時代の日本の様子について調べた。明治時代の日本の社会や文化の様子について述べた文として最も適当なものを、次の(ア)～(エ)から1つ選べ。……………答の番号【13】

- (ア) 治安維持法の制定により、共産主義に対する取り締まりが強められた。  
 (イ) 国家総動員法の制定により、政府は労働力や資源を議会の承認なしに動員できるようになった。  
 (ウ) 文庫本や1冊1円の円本が刊行され、文化の大衆化に大きな役割を果たした。  
 (エ) 国際社交場である鹿鳴館が建てられ、舞踏会が催されるなど、欧化政策が進められた。

(4) 太郎さんは、下線部④自動車について興味を持ち、右の資料Ⅲを作成した。資料Ⅲは、アジア州における2016年の自動車保有台数上位5か国に関するデータを、世界の合計とともに示したものである。また、次の会話は、資料Ⅲについて太郎さんと先生が交わしたものの一部である。会話中の **A**・**B** に入る語句の組み合わせとして最も適当なものを、下の(ア)～(エ)から1つ選べ。また、**C** に入る適当な表現を、自動車保有台数という語句を用いて11字以内で書け。

	2010年	2016年	
	自動車保有台数(万台)	自動車保有台数(万台)	人口(千人)
中国	7,802	19,400	1,382,323
日本	7,536	7,775	125,892
インド	2,078	4,604	1,326,802
インドネシア	1,890	2,251	260,581
韓国	1,794	2,180	50,504
世界の合計	101,676	132,421	7,432,663

「データブック オブ・ザ・ワールド」  
2013年版及び2017年版及び2019年版より作成

……………答の番号【14】

太郎 2010年と2016年を比べると、資料Ⅲ中のそれぞれの国、世界の合計、いずれにおいても自動車保有台数が増加していますね。中でも、中国と **A** は自動車保有台数が2倍以上に増加しています。

先生 そうですね。では、資料Ⅲから読み取ることのできる日本の特徴は何かありましたか。

太郎 はい。自動車保有台数の世界の合計と日本に注目すると、世界の合計に占める日本の割合は、2010年と比べ、2016年では **B** していることがわかります。

先生 そうですね。他にもありましたか。例えば、資料Ⅲ中の日本と他の4か国を比較するとどうですか。

太郎 あっ、わかりました。資料Ⅲ中の5か国の中で、日本は最も2016年の人口千人あたりの **C** ことが読み取れますね。

- (ア) A インド B 増加 (イ) A インド B 減少  
 (ウ) A インドネシア B 増加 (エ) A インドネシア B 減少

下書き用 

--	--	--	--	--	--	--	--	--	--

(5) 太郎さんは、下線部⑤空港や道路といった、私企業だけで提供することが困難な財を供給することが政府の役割の一つであることを知った。このような財のことを何というか、社会という語句に続けて、漢字2字で書け。また、このような財を供給するために、政府は国民から税金を徴収するが、政府が国民に課す税金の中で間接税にあたるものとして適当なものを、次の(ア)～(オ)から2つ選べ。……………答の番号【15】

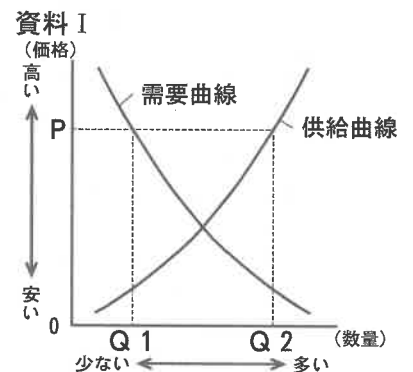
(ア) 関税 (イ) 消費税 (ウ) 所得税 (エ) 相続税 (オ) 法人税

4 都さんのクラスでは、「日本の社会」について班ごとにテーマを決めて調べ学習に取り組んだ。次の表は、1～5班のテーマと調べたことの一覧である。これを見て、下の問い(1)～(5)に答えよ。(10点)

班	1班	2班	3班	4班	5班
テーマ	議会制民主主義	市場経済	企業	農業	工業
調べたこと	国民の政治参加について	価格の決まり方について	株式会社について	稲作地域について	工場の立地について

- (1) 1班は、選挙が国民の意思を政治に反映させるための主要な方法であり、議会制民主主義を支えるものである点に着目した。次のi群(ア)～(エ)の現在の日本における選挙の原則のうち、財産や性別などに関係なく、一定の年齢に達した国民すべてに選挙権を保障する原則を1つ選べ。また、現在の日本における国会議員の選挙制度について述べた文として最も適当なものを、下のii群(カ)～(ケ)から1つ選べ。……………答の番号【16】
- i群 (ア) 直接選挙 (イ) 秘密選挙 (ウ) 平等選挙 (エ) 普通選挙
- ii群 (カ) 衆議院議員の被選挙権を得られる年齢は、満18歳以上である。  
 (キ) 衆議院議員の全体では、比例代表制よりも、小選挙区制によって選出される議員の方が多い。  
 (ク) 参議院議員の選挙は6年に一度行われ、一度の選挙ですべての参議院議員が改選される。  
 (ケ) 参議院議員の選挙では、小選挙区比例代表並立制が採られている。

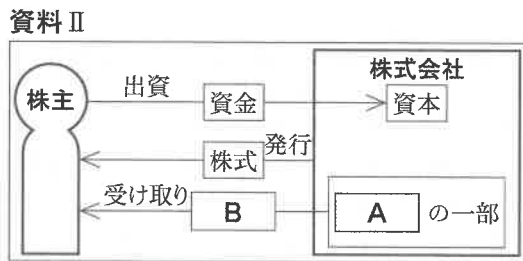
- (2) 2班は、市場経済においては、需要と供給のバランスによって価格が変化する点に着目した。右の資料Iは、自由な競争が行われている市場において、ある商品の価格と需要・供給の関係を模式的に表したものである。また、次の文は、資料Iについて2班が書いたものの一部である。文中のA・Bに入るものの組み合わせとして最も適当なものを、下の(ア)～(エ)から1つ選べ。……………答の番号【17】



価格がPのとき、供給量が需要量をAおり、Bの式で表される量の売れ残りがでるので、この商品の価格は下落していくと考えられる。

- (ア) A 上まわって B  $Q_1 + Q_2$  (イ) A 上まわって B  $Q_2 - Q_1$   
 (ウ) A 下まわって B  $Q_1 + Q_2$  (エ) A 下まわって B  $Q_2 - Q_1$

- (3) 右の資料IIは、3班が株主と株式会社との関係についてまとめたものの一部であり、資料II中の矢印(→)は、お金やものの動きを示している。また、右の資料IIIは、3班が資料IIについてまとめたものである。資料II・IIIにおいて、A・Bのそれぞれに共通して入る語句として最も適当なものを、次の(ア)～(オ)からそれぞれ1つずつ選べ。……………答の番号【18】



資料III

株式会社は公企業と違い、Aを得ることを目的とする私企業の一つで、株式を発行することで得られた資金を資本として、生産や販売などを行う。株主は、持ち株数に応じて、会社のAの一部を受け取ることができ、これをBという。

- (ア) 債券 (イ) 賃金 (ウ) 配当 (エ) 利子 (オ) 利潤(利益)
- (4) 4班は、日本で有数の米の生産地である東北地方の稲作について調べた。東北地方の稲作に関して述べた文として最も適当なものを、次のi群(ア)～(エ)から1つ選べ。また、東北地方では、世界恐慌の影響が日本において深刻化していた1930年代に、農業経営が危機におちいった。1930年代に日本で起こったできごととして最も適当なものを、下のii群(カ)～(ケ)から1つ選べ。……………答の番号【19】
- i群 (ア) 冷害に強くて品質の高い米の開発が進み、銘柄米として生産が行われている。  
 (イ) 太平洋側では、夏に吹くやませによって、稲作に適した気候がもたらされている。  
 (ウ) 土地の栄養が不足していくことを防ぐため、同じ土地で米だけを作り続ける輪作が行われている。  
 (エ) 日本海側では、千島列島から南下してくる黒潮によって、稲作に適した気候がもたらされている。
- ii群 (カ) 不平士族が西南戦争を起こした。 (キ) 本土への空襲が始まり、都市の子どもが疎開した。  
 (ク) 政府が警察予備隊をつくった。 (ケ) 陸軍の青年将校が二・二六事件を起こした。

- (5) 5班は、日本の製鉄所が臨海部に多く立地していることに着目した。右の文章は、5班が製鉄所の立地に関して書いたものの一部である。文章中のA・Bに入るものとして最も適当なものを、Aは次のi群(ア)～(エ)から、Bはii群(カ)～(ク)から、それぞれ1つずつ選べ。……………答の番号【20】

日本の製鉄所が臨海部に集中しているのは、Aに適していることがおもな理由である。同様の理由で臨海部に集中しているものには、Bなどがある。

- i群 (ア) 製品に使用する原材料の採掘 (イ) 外国との貿易をめぐる対立の回避  
 (ウ) 政治や経済に関する情報の収集 (エ) 重量の大きい原料や製品の大量輸送
- ii群 (カ) IC(集積回路)工場 (キ) 印刷工場 (ク) 石油化学コンビナート



# 検査 2 社会 正答表

問題番号	答の番号	答の欄		備考欄		配点
1	(1)	【1】	せ き ど う	㊦	【1】	2 (各1)
	(2)	【2】	㊤	季 節 風	【2】	2 (各1)
	(3)	【3】	i 群 ㊩	ii 群 ㊧	【3】	2 (各1)
	(4)	【4】	資料Ⅲ ㊤	資料Ⅳ ㊦	【4】	2 (各1)
	(5)	【5】	A S E A N	㊦	【5】	2 (各1)
2	(1)	【6】	i 群 ㊦	ii 群 ㊧	【6】	2 (各1)
	(2)	【7】	自由権 ㊥	社会権 ㊩	【7】	完全解答 2
	(3)	【8】	( B ) → ( C ) → ( A ) → ( D )		【8】	完全解答 2
	(4)	【9】	i 群 ㊩	ii 群 ㊦	【9】	2 (各1)
	(5)	【10】	<p>資料Ⅳ中の愛知県を除く残りの県のうちから、愛知県と同様に、農業産出額に占める最上位品目の割合が50%未満である県をすべて選び、その県にあたる部分をすべて黒く塗って示せ。</p> 		【10】	完全解答 2
3	(1)	【11】	元	㊦	【11】	2 (各1)
	(2)	【12】	㊩ ㊥ ㊦	【12】	完全解答 2	
	(3)	【13】	㊦		【13】	2
	(4)	【14】	㊩	(例) 自動車保有台数が多い	【14】	2 (各1)
	(5)	【15】	社会 資本	㊦ ㊩	【15】	ア・イは完全解答 2 (各1)
4	(1)	【16】	i 群 ㊦	ii 群 ㊦	【16】	2 (各1)
	(2)	【17】	㊩		【17】	2
	(3)	【18】	A ㊦	B ㊥	【18】	完全解答 2
	(4)	【19】	i 群 ㊦	ii 群 ㊧	【19】	2 (各1)
	(5)	【20】	i 群 ㊦	ii 群 ㊧	【20】	完全解答 2